

**Аналитический раунд**

**Задание** Максимальное количество баллов – 15

**1.**

Прочтите текст о каждом из 5 государств. Определите, о каком государстве идет речь, выполните дополнительное задание. Ответы запишите в таблицу.

1. Государство является федеративной президентско-парламентской республикой. Имеет сухопутную границу с 16 государствами мира (в том числе и частично признанными) и с 2 государствами – только по морю. Территория государства располагается более, чем в 2 климатических поясах. На его территории находится самый высокий активный вулкан континента.

2. Государство является федеративной республикой и самой крупнейшей по населению страной на материке. Это бывшая колония одного из европейских государств, что отразилось на становлении официального государственного языка (ныне существующем).

3. Большую часть территории этого государства занимает пустыня. Более 80% от общей численности населения страны составляют иммигранты. Добыча и экспорт одного полезного ископаемого обеспечило быстрый рост экономики данного государства в последние десятилетия 20 века. Имея монархическую форму правления, является федерацией по государственному устройству.

4. Государство является федеративной демократической парламентской республикой. Самое населенное в мире государство, не имеющее выхода к морю. 85% населения занято в главной отрасли экономики государства, хотя страна является самой высокогорной на своем континенте.

5. Страна является самым экономически развитым государством на континенте. На ее территории расположены жестколистные леса и кустарники, саванны, опустыненные саванны, полупустыни и пустыни. В восточной части ее территории находятся горы. Внутри государства находится анклав другого государства.

**ВАРИАНТ #1**

**11 КЛАСС**

*Время выполнения – 150 минут // Максимальный балл – 128*

**Не разрешается** пользоваться атласами, любыми справочными данными, в том числе сотовыми телефонами, и прочими гаджетами.

Пишите разборчиво! Удачи!

<b>ЗАДАНИЕ</b>	<b>БАЛЛЫ</b>
1	
2	
3	
4	
5	
<b>ТЕСТ</b>	
<b>ИТОГО</b>	



№	Название государства	Дополнительное задание по данному государству	Ответ на дополнительное задание
1.		Назовите вулкан	
2.		Назовите государственный язык	
3.		Колонией какого государства являлось?	
4.		Назовите главную отрасль экономики	
5.		Как называется анклав?	

В состав какой группы стран, включающей в себя 9 государств, входят данные государства? \_\_\_\_\_

Назовите еще 4 страны, входящие в данное объединение: \_\_\_\_\_

**Задание 2.** Максимальное количество баллов – 9

Относительно комплексным географическим образом определите, каким государствам принадлежат банкноты:

- 1) 1 фунт: мечеть и мавзолей султана Каит-бея, храм Рамсеса II в Абу-Симбеле \_\_\_\_\_;
- 2) 5 быр: мужчина, собирающий кофе, антилопа куду, рысь \_\_\_\_\_;
- 3) 5 долларов: Эдмунд Хиллари, пик Кука, желтоглазый пингвин, лилия Росса, маргаритка острова Кэмпбелл, бычья водоросль \_\_\_\_\_;
- 4) 10 боливаров: Симон Боливар, гигантский муравьед на фоне молнии Кататумбо \_\_\_\_\_;
- 5) 20 рэндов: Нельсон Мандела, слон и слонёнок \_\_\_\_\_;
- 6) 100 динаров: портрет учёного и изобретателя Николы Тесла, катушка высокочастотного трансформатора \_\_\_\_\_;
- 7) 100 долларов: кантонская опера, лев банка HSBC и небоскрёб банка HSBC \_\_\_\_\_;
- 8) 100 песо: Несауалькойотль, акведук Темпло Майор и центральная площадь Теночтитлана \_\_\_\_\_;
- 9) 200 новых долларов: Чан Кайши, президентский дворец в Тайбэе \_\_\_\_\_.



**Задание 3.** Максимальное количество баллов – 7

Сравните экономико-географическое положение двух городов. Укажите черту сходства, важное преимущество в найденном сходстве одного города над другим, преимущество в транспортных связях одного города над другим. Ответ запишите в таблице

1. Самый северный в мире город с населением более 1 млн человек
2. До 1946 года город носил название Кёнигсберг.

Города	1. 2.
Черта сходства в ЭГП	
Преимущество в найденном сходстве одного города над другим	

Преимущество в транспортных связях одного города над другим

**Задание 4.** Максимальное количество баллов – 61

Задания на знание географической номенклатуры. Во вторую колонку таблицы следует записывать номер объекта, который в вопросах отмечен подчёркиванием. Цифровое обозначение рек на карте проставлено около их устьев.

*(задания на следующей странице)*








Вопрос	№ на карте	Дополнительный вопрос	Ответ
<p>2. <u>Полуостров*</u>, отделённый от Африки Гибралтарским проливом</p> <p><i>* В случае неправильно указанного названия полуострова номер на карте не оценивается</i></p>		<p>Запишите:</p> <p><i>а)</i> его название;</p> <p><i>б)</i> названия государств, расположенных на территории полуострова;</p> <p><i>в)</i> названия столиц этих государств</p>	
<p>2. Кто из перечисленных мореплавателей свершил три кругосветных путешествия: Магеллан, Кук, Дрейк, Крузенштерн ?</p>		<p>Запишите:</p> <p><i>а)</i> имя мореплавателя;</p> <p><i>б)</i> с аборигенами какой территории произошёл конфликт, приведший к потере руководителя экспедиции;</p> <p><i>в)</i> современный статус данной территории</p>	
<p>3. Какой народ проживал на острове <u>Маврикий</u> до прихода туда европейцев в XVI веке?</p>		<p>Запишите:</p> <p><i>а)</i> ответ на вопрос;</p> <p><i>б)</i> морями какой страны остров был открыт;</p> <p><i>в)</i> какая с/х культура выращивается сегодня на 90% обрабатываемых сельхозугодий</p>	
<p>4. Прочитайте определение: «Глубокая речная долина с очень крутыми, нередко отвесными склонами и узким дном, обычно полностью занятым руслом реки; образуется в результате выветривания и эрозионной активности реки». Самая известная речная долина такого типа находится в США в штате Аризона. Река протекает по одноименному плато.</p>		<p>Запишите:</p> <p><i>а)</i> термин, описание которого приведено в первом столбце;</p> <p><i>б)</i> <u>самый глубокий объект в Европе, соответствующий данному определению, находится в РФ. Как он называется и в каком субъекте находится?</u></p> <p><i>в)</i> <u>где находятся самые большие в мире как по глубине, так и по длине речные долины такого типа? Их две.</u></p>	



<p>5. Птолемей называл её Даикс, в некоторых латинских текстах она фигурирует под именем Римн (Rymnus fluvius), первое упоминание этого гидронима в русских летописях восходит к тюркскому «<i>jajuk</i>» - «разостланный, широкий». Таким название сохранилось в казахском, ногайском, башкирском языках. А какое название этой реки, впадающей в бессточное озеро на стыке Европы и Азии, мы видим на наших современных картах?</p>		<p>Запишите:  <b>а)</b> название <u>реки</u>;  <b>б)</b> место истока;  <b>в)</b> назовите 3 субъекта РФ, в пределах которых находится бассейн данной реки  <b>г)</b> территории какого государства также относятся к этому бассейну?</p>	
<p>6. В каком регионе России находится город Петрозаводск?</p>		<p>Запишите:  <b>а)</b> название субъекта РФ;  <b>б)</b> название озера, на берегах которого расположен город</p>	
<p>7. Какое из этих государств расположено на полуострове Ютландия:  <b>а)</b> <u>Дания</u>, <b>б)</b> <u>Нидерланды</u>,  <b>с)</b> <u>Германия</u>, <b>д)</b> <u>Ирландия</u></p>	<p><b>a</b> <b>b</b> <b>c</b> <b>d</b></p>	<p>Запишите:  <b>а)</b> территории каких стран имеют место на этом полуострове;  <b>б)</b> самый южный крупный город, относящийся к полуострову и особенность его статуса</p>	
<p>8. В каком <u>государстве</u> находится водопад Анхель?</p>		<p>Запишите:  <b>а)</b> название страны;  <b>б)</b> название её столицы  <b>в)</b> в чем заключается уникальность этого водопада</p>	
<p>9. В каком из перечисленных субъектов РФ находится город Канск:  <b>а)</b> <u>Приморский край</u>, <b>б)</b> <u>Пермский край</u>,  <b>с)</b> <u>Красноярский край</u>, <b>д)</b> <u>Краснодарский край</u>  <b>(Цифрами обозначены административные краевые центры)</b></p>	<p><b>a</b> <b>b</b> <b>c</b> <b>d</b></p>	<p>Выберите ответ и запишите:  <b>а)</b> название края;  <b>б)</b> название <u>реки (А)</u>, на берегах которой расположен административный центр края;  <b>в)</b> где находится <u>исток (Б)</u> этой реки</p>	



<p>10. Какая <u>страна</u> выделена на глобусе?</p> 	<p>Запишите:</p> <p><i>а)</i> название страны;</p> <p><i>б)</i> название пограничных с нею государств.</p>	
<p>11. Какие <u>государства</u> поделили между собой культурный регион Лапландию?</p> <p><i>(На карте цифрами обозначены столицы государств)</i></p>	<p>Запишите:</p> <p><i>а)</i> названия стран;</p> <p><i>б)</i> этноним коренного народа Лапландии (название коренного народа);</p> <p><i>в)</i> назовите одно из традиционных занятий и ремёсел этого народа</p>	
<p>12. Какие <u>государства</u> объединяет содружество португалоязычных государств?</p>	<p>Запишите:</p> <p><i>а)</i> названия стран;</p> <p><i>б)</i> чем объясняется распространение португальского языка в этих странах?</p>	
<p>13. На этом <u>острове</u> площадью 132 тысячи км<sup>2</sup> живет больше людей, чем во всей России.</p> <p><i>152 млн. жителей</i></p> 	<p>Запишите:</p> <p><i>а)</i> название острова;</p> <p><i>б)</i> название страны, частью которой он является;</p> <p><i>в)</i> какие еще острова составляют части этого государства?</p>	
<p>14. Флаг какого ближневосточного <u>государства</u> изображен на рисунке?</p> 	<p>Запишите:</p> <p><i>а)</i> название страны;</p> <p><i>б)</i> опишите помещенные на его поле символы и объясните их значение</p>	





**Задание 5.** Максимальное количество баллов – 16

Внимательно рассмотрите часть топографической карты. Ответьте на вопросы.

1. На сколько минут простирается карта с запада на восток?

2. Через сколько метров на карте проведены сплошные горизонтали?

3. Дайте характеристику древостоя леса к западу от отметки высоты 227,0 м.

4. Почему обозначенная на карте железная дорога так сильно петляет?

5. Определите максимальное и минимальное значение высоты над уровнем моря для данной территории.

6. В селе Канабеевка на северо-восток простираются три оврага. На какое расстояние ещё могут вырасти эти овраги? Что будет являться пределом их роста?

7. Вы стоите с компасом на высоте 148,0 м юго-западнее населённого пункта Забарышский и берёте азимут на башню к северу от села Красный Бор. Чему он будет равен? Магнитное склонение восточное  $12^{\circ}20'$ .

8. Вы стоите на холме с отметкой высоты 171,0 м 2 км 300 м к западу от села Берёзовка. Увидите ли вы на юго-западе башню (высоту башни принять за 10 м) к северу от с. Красный Бор?

9. Что означают ЖБ 125 – 10 / 30 и Д 16 – 4 / 3

10. Вычислите падение между обозначенными урезами воды в реке Барыш

1.	2.	3.	4.	5.	6.	7.	8.	9.	10.
11.	12.	13.	14.	15.	16.	17.	18.	19.	20.

**ТЕСТОВЫЙ РАУНД**

(за каждый верный ответ- 1 балл, максимально – 20 баллов)

1. На какой широте ночь всегда равна дню?  
а) экваторе, б) тропиках, в) полюсах, г) полярных кругах.
2. Верещатники образуются на месте вырубленных лесов на: а) Нижнедунайской равнине, б) Мальте, в) Малабарском берегу, г) Северо-Шотландском нагорье.
3. Три крупнейших российских порта по грузообороту в 2023 году:  
а) Новороссийск, Туапсе, Находка, б) Новороссийск, Тамань, Владивосток,  
в) Новороссийск, Приморск, Санкт-Петербург, г) Новороссийск, Мурманск, Сабетта.
4. На каком языке (из перечисленных) говорит наименьшее число людей?  
а) арабском, б) бенгальском, в) португальском, г) японском.
5. Какая река вытекает из Байкала? а) Селенга, б) Ангара, в) Енисей, г) Лена.
6. Укажите самый северный город-миллионер в мире.  
а) Монреаль, б) Осло, в) Пермь, г) Санкт-Петербург.
7. Какой величине соответствует средняя солёность Мирового океана?  
а) 18‰, б) 29‰, в) 35‰, г) 43‰.



8. В Европейский союз входит государство:  
а) Швейцария, б) Австрия, в) Исландия, г) Норвегия.
9. В Северо-Кавказский Федеральный округ не входит:  
а) Карачаево-Черкесская Республика, б) Республика Дагестан,  
в) Республика Адыгея, г) Ставропольский край.
10. Больше всего осадков в августе выпадает в: а) Багдаде, б) Барселоне, в) Бейруте, г) Бангалоре.
11. Большая часть электроэнергии в России вырабатывается на:  
а) тепловых электростанциях,  
б) гидроэлектростанциях,  
в) атомных электростанциях,  
г) электростанциях, использующих альтернативные и нетрадиционные источники энергии.
12. Государство, столица которого с 1919 по 1927 гг. носила название Полторацк:  
а) Таджикистан, б) Казахстан, в) Черногория, г) Туркменистан.
13. На уровне моря кислорода в воздухе содержится: а) 21 %, б) 78 %, в) 1%, г) 0,03%.
14. Монархией в Африке является: а) Марокко, б) Египет, в) Эфиопия, г) Мавритания.
15. Ветер, дующий с тропических широт к экватору, называется:  
а) пассат, б) муссон, в) циклон, г) суховей.
16. У какого из субъектов Российской Федерации наибольшее количество субъектов соседей?  
а) Воронежская обл., б) Кировская обл., в) Орловская обл., г) Рязанская обл.
17. Остров Петра I находится в море: а) Азовском, б) Балтийском, в) Беллинсгаузена, г) Карском.
18. Явление, вызванное теми же причинами, что и поророка, можно наблюдать на:  
а) реке Сена, б) реке Мургаб, в) озере Эйр, г) водохранилище Вольта.
19. Города России, которые нужно посетить, чтобы произвести закупки на местных заводах, производящих автобусы, троллейбусы и трамваи:  
а) Архангельск, Уфа, Екатеринбург;  
б) Ликино-Дулёво, Вологда, Усть-Катав;  
в) Калуга, Энгельс, Санкт-Петербург;  
г) Ульяновск, Волгоград, Череповец.
20. Чему равна длина большей стороны площади Тяньаньмэнь в Пекине на карте масштаба 1:10000, если она имеет прямоугольную форму, занимает 6606,6 фэнь (1 фэнь=66,6 м<sup>2</sup>), а длины ее сторон относятся друг к другу как 44 : 25:  
а) 8,8 см, б) 8,8 мм, в) 4,2 см, г) 4,2 дм.

